



1. Rozwiąż zadania i uzupełnij odpowiedzi.

Karol ma , a Adam ma .

Ile jabłek mają razem?

Razem mają

 jabłek.

Adaś ma

2	zł
---	----



, a Ada

1	zł
---	----

. Ile pieniędzy mają razem?

Razem mają

 złote.

Helenka ma , zjadła . Ile cukierków jej zostało?

Helence zostały

 cukierki.

2. Napisz, jakie monety może mieć Natałka w skarbonce.

$$\textcircled{5\text{zł}} = \begin{array}{|c|c|} \hline & \\ \hline \end{array} \text{zł} + \begin{array}{|c|c|} \hline & \\ \hline \end{array} \text{zł} + \begin{array}{|c|c|} \hline & \\ \hline \end{array} \text{zł} + \begin{array}{|c|c|} \hline & \\ \hline \end{array} \text{zł} + \begin{array}{|c|c|} \hline & \\ \hline \end{array} \text{zł}$$

$$\textcircled{5\text{zł}} = \begin{array}{|c|c|} \hline & \\ \hline \end{array} \text{zł} + \begin{array}{|c|c|} \hline & \\ \hline \end{array} \text{zł} + \begin{array}{|c|c|} \hline & \\ \hline \end{array} \text{zł} + \begin{array}{|c|c|} \hline & \\ \hline \end{array} \text{zł}$$

$$\textcircled{5\text{zł}} = \begin{array}{|c|c|} \hline & \\ \hline \end{array} \text{zł} + \begin{array}{|c|c|} \hline & \\ \hline \end{array} \text{zł} + \begin{array}{|c|c|} \hline & \\ \hline \end{array} \text{zł}$$